

КОНТРОЛЬНАЯ РАБОТА
ГЕОГРАФИЯ 5 КЛАСС

1. Прочитайте текст. Определите и запишите имя путешественника, о котором идет речь в тексте. Ответьте на вопрос.

«Это был решительный и мужественный мореплаватель. Плавание экспедиции под его руководством началось в 1497 году из порта Лиссабона. Обогнув южную оконечность Африки, корабли его команды достигли берегов Индии и причалили в городе Каликут. Несмотря на то что его имя до сих пор не пользуется уважением в Индии, он навсегда вошел в историю Великих географических открытий».

Ответ: Имя путешественника _____

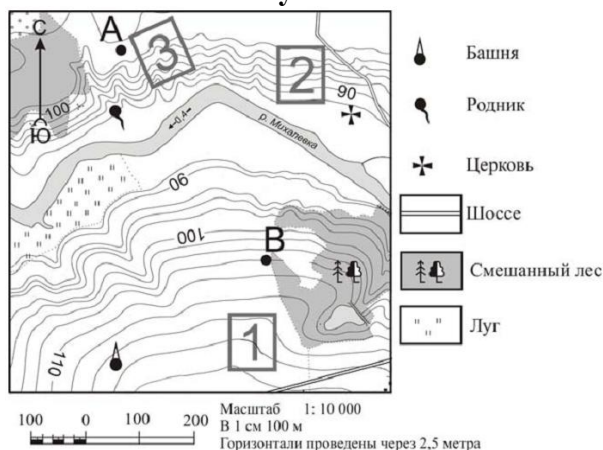
Ответ: В чем заключается заслуга этого путешественника? _____

2. Внимательно рассмотрите карту. Назовите путешественника, чей маршрут представлен на карте.



Ответ: _____.

3. Определите расстояние от родника до башни, какой склон круче – в квадрате 3 или 1? Как вы это установили?



4. Численный масштаб перевести в именованный:

1:240 000

1:7 000 000

1: 4 600

5. Определение своего местоположения относительно сторон горизонта называется:

- 1) ориентированием
- 2) прогнозированием
- 3) моделированием
- 4) нивелированием

6. Форма Земли и очертания материков и океанов наиболее точно переданы на:

- 1) глобусе
- 2) карте
- 3) плане
- 4) аэрофотоснимке.

7. Определить и записать географические координаты географического объекта:

г. Токио -

8. В какой день в северном полушарии день самый короткий в году?

- 1) 22 декабря
- 2) 22 июня
- 3) 21 марта
- 4) 23 сентября

9. Установите соответствие между частями земного шара и их описанием

- 1. Ядро внутреннее
 - 2. Ядро внешнее
 - 3. Мантия
 - 4. Земная кора
- а) В твердом состоянии, мощностью от 10 до 75 км
 - б) $t^{\circ} - 2\ 000^{\circ}$, находится в особом состоянии, обладая свойствами жидкого и твердого тела
 - в) Жидкое состояние $t^{\circ} - 6\ 000^{\circ}$
 - г) Твердое состояние

1	2	3	4

10. Прочитайте текст и найдите в тексте предложение, в котором содержится информация о рельефе. Запишите номер этого предложения.

- 1) Угол между направлением на север и направлением на какой-то предмет, отсчитываемый от направления на север по часовой стрелке.
- 2) Превышение точек земной поверхности над уровнем Мирового океана.
- 3) Все неровности земной поверхности, различные по форме, возрасту, размерам и происхождению.

Промежуточная аттестация по географии 5 класс

Форма: контрольная работа

Цель: установление фактического уровня освоения обучающимися 5-х классов содержания образовательной программы по географии, в соответствие с требованиями ФГОС.

Структура и содержание работы.

Контрольная работа представлена двумя равнозначными вариантами, каждый из которых включает 10 заданий. Задания охватывают темы курса географии 5 класса.

Продолжительность работы: 40 минут

Критерии оценки:

Полные правильные ответы на задания оцениваются в баллах следующим образом:

Задание №1 – 2 балла

Задание №6 - 1 балл

Задание №2 – 1 балл

Задание №7 - 1 балл

Задание №3 - 2 балла

Задание №8 – 1 балл

Задание №4 – 3 балла

Задание №9 – 4 балла

Задание №5 – 1 балл

Задание №10 – 1 балл

Максимальный балл за работу – 17 б.

Тестовый балл	Школьная отметка
15-17 баллов	«5»
12- 14 баллов	«4»
8 - 11 баллов	«3»
0 – 7 баллов	«2»

**КОНТРОЛЬНАЯ РАБОТА
ГЕОГРАФИЯ 6 КЛАСС**

1. Основную часть гидросферы составляют воды:

- а) ледников б) суши
в) рек г) Мирового океана.

2. Что является причиной образования цунами?

- а) постоянные ветры б) штормовой ветер
в) притяжение Луны г) подводные землетрясения.

3. Самое глубокое озеро на Земле:

- а) Каспийское б) Байкал
в) Аральское г) Мертвое

**4. Установите соответствие
ОПРЕДЕЛЕНИЯ**

1. Место, где река начинается
2. Углубление в речной долине,
по которому воды реки текут
постоянно
3. Река со всеми своими притоками
4. Ежегодный подъем уровня воды весной
5. Граница между соседними речными бассейнами
6. Вытянутое в длину углубление на земной
поверхности, по которому течет река
7. Часть речной долины, ежегодно затопляемая водой
при половодьях и паводках
8. Внезапный кратковременный подъем уровня
воды в реке летом и осенью

ПОНЯТИЯ

- а) речная система
б) половодье

в) русло
г) исток
д) водораздел

е) паводок

ж) пойма

з) речная долина




5. Многолетний режим погоды, характерный для какой-либо местности, называется:

- а) погода б) климат
в) воздушная масса г) атмосфера

6. Определите среднюю суточную температуру воздуха, используя данные таблицы.

Время суток	1 ч	7 ч	13 ч	19ч
Температура воздуха	+1С	+ 3 С	+8 С	+ 4С

7. На каком рисунке знаками отображена погода в тот день, когда не было осадков? Укажите букву, которой обозначен этот рисунок. Составьте описание погоды в этот день.

А		-16 °C	74%
Б		-10 °C	56%
В		+2 °C	80%

Ответ. Рисунок: _____

8. Установите соответствие между географическими особенностями и природными зонами, для которых они характерны.

ГЕОГРАФИЧЕСКИЕ ОСОБЕННОСТИ

ПРИРОДНЫЕ ЗОНЫ

А) суровый климат с продолжительной морозной зимой и коротким прохладным летом

1) смешанные леса

2) тундра

Б) произрастание на одной территории хвойных и лиственных деревьев

В) произрастание карликовой берёзы, карликовой ивы, голубики, морошки

Г) местообитание зубра, лося, барсука, бобра

Д) умеренно холодная, снежная зима и тёплое лето

Е) местообитание северного оленя, песца, полярной куропатки, лемминга

А	Б	В	Г	Д	Е

**Промежуточная аттестация по географии
6 класс**

Форма: контрольная работа

Цель: установление фактического уровня освоения обучающимися 6-х классов содержания образовательной программы по географии, в соответствии с требованиями ФГОС.

Структура и содержание работы.

Контрольная работа представлена двумя равнозначными вариантами, каждый из которых включает 8 заданий. Задания охватывают темы курса географии 6 класса.

Продолжительность работы: 40 минут

Критерии оценки:

Полные правильные ответы на задания оцениваются в баллах следующим образом:

Задание №1 – 1 балл

Задание №6 - 1 балл

Задание №2 – 1 балл

Задание №7 - 2 балла

Задание №3 - 1 балл

Задание №8 – 2 балла

Задание №4 – 8 баллов

Задание №5 – 1 балл

Максимальный балл за работу – 17 б.

Тестовый балл	Школьная отметка
15-17 баллов	«5»
12- 14 баллов	«4»
8 - 11 баллов	«3»
0 – 7 баллов	«2»

КОНТРОЛЬНАЯ РАБОТА
ГЕОГРАФИЯ 7 КЛАСС

1. Выберите черту климата, характерную для субтропического пояса:

- А. Наблюдается примерно одинаковая температура в течение года.
- Б. В течение года господствуют две воздушные массы.
- В. Осадки выпадают преимущественно в виде снега.
- Г. Весь год дуют пассаты.

2. В бассейне этой реки находится самый высокий водопад мира

- А. Конго Б. Амазонка В. Замбези Г. Ориноко

3. Выберите озеро, располагающееся в Южной Америке:

- А. Танганьика Б. Виктория В. Титикака Г. Эйр

4. Какие три из перечисленных реки находятся на материке Северная Америка?

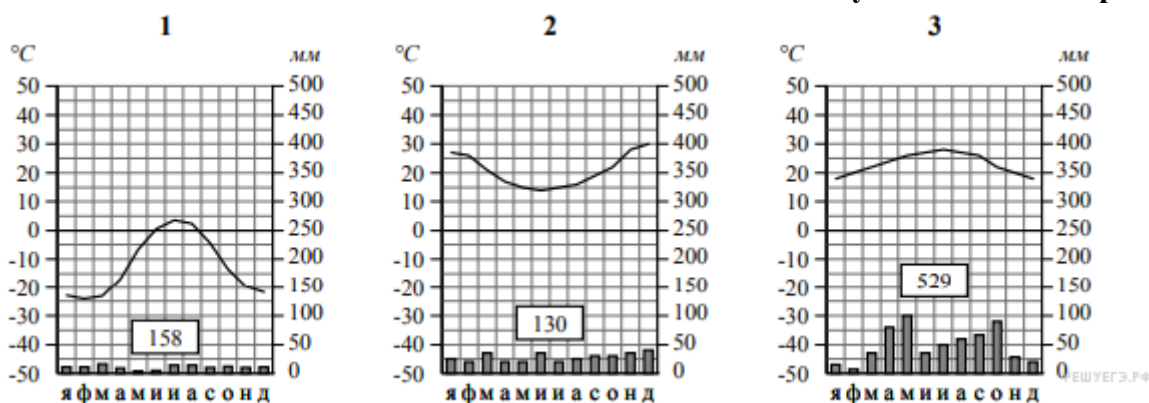
- | | |
|----------------------|--------------|
| 1. Парана | 5. Маккензи |
| 2. Миссисипи | 6. Ориноко |
| 3. Святого Лаврентия | 7. Замбези |
| 4. Муррей | 8. Оранжевая |

5. Пассаты— это:

- А. Постоянные ветры, дующие от 30-х широт к экватору
- Б. Ветры, дующие с океана на сушу летом
- В. Ветры, дующие днем со стороны моря
- Г. Ветры, вызванные приливами и отливами

6. Рассмотрите рисунки с изображением климатограмм, построенных по данным метеонаблюдений в разных частях Земли, и выполните задания.

Определите, какому климатическому поясу соответствует каждая климатограмма. Подпишите название климатического пояса под соответствующей климатограммой.



- №1 _____
- №2 _____
- №3 _____

7. Установите соответствие между географическими особенностями и материками, для которых они характерны

ГЕОГРАФИЧЕСКИЕ ОСОБЕННОСТИ

МАТЕРИКИ

- А) На материке расположена самая крупная пустыня мира
- Б) Восточная часть материка – это современная рифтовая зона с глыбовыми горами и глубочайшими впадинами, многие из которых заняты озёрами.
- В) На территории материка находится самое влажное место на Земле (Черапунджи), где выпадает более 12 000 мм осадков в год.
- Г) Центральную часть материка занимают джунгли.
- Д) Материк имеет разветвлённую речную сеть, относящуюся к бассейнам четырёх океанов.
- Е) На материке расположена высочайшая горная система мира, в пределах которой находится самая высокая вершина Земли.

- 1) Африка
2) Евразия

А	Б	В	Г	Д	Е

8. Установите соответствие:

ОКЕАН

МОРЕ

1. Атлантический океан А. Жёлтое море
2. Тихий океан Б. Белое море
3. Индийский океан В. Чёрное море
4. Северный Ледовитый океан Г. Красное море

А	Б	В	Г

9. Установите соответствие:

МАТЕРИК

РАСТЕНИЯ

1. Африка А. Эвкалипт
2. Австралия Б. Баобаб
3. Южная Америка В. Секвойя
4. Северная Америка Г. Сейба

А	Б	В	Г

10. Какой природной зоне мира соответствуют приведённые ниже характеристики? Укажите в ответе название этой природной зоны.

- 1) Занимает преимущественно равнинные территории.
- 2) Характерна смена сухого и влажного сезонов года.
- 3) Преобладает травянистый покров с травами, достигающими 3 м в высоту.
- 4) Древесная растительность представлена акациями, веерными пальмами, баобабами.
- 5) Обитают крупные травоядные животные: слоны, жирафы, зебры, антилопы, буйволы, носороги, бегемоты, а также хищники: гепарды, леопарды, шакалы, гиены.

Ответ. _____

Промежуточная аттестация по географии 7 класс

Форма: контрольная работа

Цель: установление фактического уровня освоения обучающимися 7-х классов содержания образовательной программы по географии, в соответствие с требованиями ФГОС.

Структура и содержание работы.

Контрольная работа представлена двумя равнозначными вариантами, каждый из которых включает 10 заданий. Задания охватывают темы курса географии 7 класса.

Продолжительность работы: 40 минут

Критерии оценки:

Полные правильные ответы на задания оцениваются в баллах следующим образом:

Задание №1 – 1 балл

Задание №6 - 3 балла

Задание №2 – 1 балл

Задание №7 - 6 баллов

Задание №3 - 1 балл

Задание №8 – 4 балла

Задание №4 – 3 балла

Задание №9 - 4 балла

Задание №5 – 1 балл

Задание №10 -1 балл

Максимальный балл за работу – 25 б.

Тестовый балл	Школьная отметка
23- 25 баллов	«5»
18 -22 баллов	«4»
9 - 17 баллов	«3»
0 – 8 баллов	«2»

КОНТРОЛЬНАЯ РАБОТА
ГЕОГРАФИЯ 8 КЛАСС

А 1. С какой из перечисленных стран Россия имеет сухопутную границу?

- а) Швеция; б) Эстония; в) Иран; г) Таджикистан.

А 2. Крайняя южная точка России расположена на территории?

- а) Республики Дагестан; б) Республики Алтай; в) Краснодарского края; г) Приморского края.

А 3. В каком из перечисленных городов России зимы наиболее холодные?

- а) Санкт-Петербург; б) Мурманск; в) Норильск; г) Ростов-на-Дону.

А 4. Для какого из перечисленных регионов России характерен муссонный климат?

- а) Республика Коми; б) Калининградская область; в) Приморский край; г) Мурманская область.

А 5. Атмосферный вихрь с повышенным давлением в центре - это:

- а) циклон; б) антициклон; в) холодный фронт; г) теплый фронт

А 6. Древнейшие горные породы выходят на поверхность в районах:

- а) платформ; б) плит в) щитов г) складчатых областей

А 7. Наибольшую протяженность в России имеет горное сооружение...

- а) Кавказ; б) Сихотэ-Алинь; в) Джугджур; г) Урал.

А 8. Серые лесные почвы формируются под...

- а) хвойными лесами в) степями
б) смешанными лесами г) широколиственными лесами

А 9. Время в границах одного часового пояса называется:

- а) местным; б) поясным; в) декретным; г) часовым.

А 10. В какой природной зоне России преобладает травянистая растительность:

- а) тайга; б) степь; в) смешанные леса; г) широколиственные леса

А 11. Озёра Ильмень, Чудское, Селигер образовались в результате:

- а) действия древних вулканов;
б) тектонических движений земной коры;
в) понижения уровня древних морей;
г) деятельности ледника.

А 12. Кавказские горы относятся к эпохе складчатости:

- а) байкальской; б) каледонской; в) альпийской; г) герцинской.

А 13. Урал сформировался в эпоху:

- а) мезозойской складчатости;
б) каледонской складчатости;
в) альпийской складчатости;
г) герцинской складчатости.

А 14. Главным минеральным богатством Западной Сибири является:

а) золото; б) нефть; в) железная руда; г) торф.

А 15. Полуостров Камчатка расположен в природной зоне

а) арктических пустынь; б) тундры; в) хвойных лесов; г) широколиственных лесов.

В 1. Установите соответствие между названием гор и их вершинами:

Горы

1. Алтай

2. Урал

3. Кавказ

4. Хребет Черского

Вершины

А) Белуха

Б) Победа

В) Народная

Г) Эльбрус

А	Б	В	Г

В 2. Выберите характеристики реки Оби:

а - впадает в Тихий океан

б - обладает крупнейшим по площади бассейном

в - исток-горы Кавказ

г - исток-горы Алтай

д - горная река

е - ледостав в октябре-ноябре

В 3. Расположите регионы России в той последовательности, в которой их жители встречают Новый год. Запишите в ответ получившуюся последовательность букв.

а) Сахалинская область б) Тульская область в) Алтайский край

--	--	--

С 1. Почему на Дальнем Востоке есть действующие вулканы и бывают сильные землетрясения? Назови не менее двух причин.

Ответ: _____

С 2. Определите регион России по его краткому описанию.

Это единственная в России область, расположенная на островах; страдает от землетрясений, тайфунов и цунами. Здесь добывают нефть, газ и уголь. Главная отрасль промышленности - рыбная, развита лесная и целлюлозно-бумажная промышленность.

Ответ: _____

**Промежуточная аттестация по географии
8 класс**

Форма: контрольная работа

Цель: установление фактического уровня освоения обучающимися 8-х классов содержания образовательной программы по географии, в соответствие с требованиями ФГОС.

Структура и содержание работы.

Контрольная работа включает 20 заданий. Задания охватывают темы курса географии 8 класса.

Продолжительность работы: 40 минут

Критерии оценки:

Полные правильные ответы на задания оцениваются в баллах следующим образом:

Задание №1 – 1 балл	Задание №11 - 1 балл
Задание №2 – 1 балл	Задание №12 - 1 балл
Задание №3 - 1балл	Задание №13 - 1 балл
Задание №4 – 1 балл	Задание №14 - 1 балл
Задание №5 – 1 балл	Задание №15 - 1 балл
Задание №6 - 1 балл	Задание №16 - 2 балла
Задание №7 - 1 балл	Задание №17 – 1,5 балла
Задание №8 – 1 балл	Задание №18 – 1,5 балла
Задание №9 - 1 балл	Задание №19- 2 балла
Задание №10 - 1 балл	Задание №20 - 3 балла

Максимальный балл за работу – 25 б.

Тестовый балл	Школьная отметка
23-25 баллов	«5»
19 - 22 баллов	«4»
12 - 18 баллов	«3»
0 – 11 баллов	«2»

КОНТРОЛЬНАЯ РАБОТА
ГЕОГРАФИЯ 9 КЛАСС

1. К техническим культурам относятся

- 1) лен 2) лен и сахарная свекла 3) лен, сахарная свекла и рожь

2. Какой из перечисленных городов России является крупным центром алюминиевой промышленности?

- 1) Ставрополь 3) Красноярск
2) Тамбов 4) Рязань

3. В каком из перечисленных регионов России производится наибольшая добыча природного газа?

- 1) Ямало-Ненецкий АО 3) Астраханская область
2) Краснодарский край 4) Республика Коми

4. В каком из перечисленных городов России развито тракторостроение?

- 1) Владивосток 3) Челябинск
2) Ставрополь 4) Норильск

5. Какой из перечисленных портов Северного морского пути является незамерзающим?

- 1) Мурманск 3) Хатанга
2) Диксон 4) Тикси

6. Основными продуктами цветной металлургии являются

- 1) Цветные металлы
2) Цветные металлы и их сплавы
3) Цветные металлы, их сплавы и минеральные удобрения

7. Европейский Север занимает ведущее место в России по

- 1) производству тканей 3) заготовке древесины
2) выплавке алюминия 4) добыче золота

8. В каком городе Европейского Севера находится крупный металлургический комбинат:

- 1) Магнитогорск 3) Северодвинск
2) Череповец 4) Мурманск

9. В Поволжье имеются ресурсы

- 1) рыбные
2) рыбные и агроклиматические
3) рыбные, агроклиматические и лесные

10. В состав Уральского экономического района входят

- 1) Курганская область и Татарстан 3) Пермский край и Республика Коми
2) Кировская область и Башкирия 4) Удмуртия и Оренбургская область

11. Выберите верный ответ. Западную и Восточную Сибирь разделяет река:

- 1) Обь 2) Енисей 3) Лена 4) Иртыш

12. Отраслями специализации Восточной Сибири являются

- 1) электроэнергетика и лесная
промышленность
2) целлюлозно-бумажная и легкая
3) цветная и черная металлургия
4) машиностроение и полиграфия

13. Туристические формы разных регионов России разработали слоганы (рекламные лозунги) для привлечения туристов в свои регионы. Установите соответствие между слоганом и названием региона.

СЛОГАН

- А) Здесь Вы сможете совершить незабываемую экскурсию в долину гейзеров!
 Б) Здесь расположена крайняя южная точка России. Вы можете приобрести уникальные серебряные изделия из аула Кубачи!

РЕГИОН

- 1) Республика Дагестан
 2) Республика Адыгея
 3) Камчатский край
 4) Приморский край

А	Б

14. В регионах, в которых работают крупные ГЭС, тарифы на электроэнергию для населения иногда значительно ниже, чем в соседних с ними регионах. В каких трёх из перечисленных регионов России построены крупные ГЭС? Запишите цифры, под которыми указаны эти регионы.

- 1) Республика Татарстан
 2) Республика Коми
 3) Иркутская область
 4) Архангельская область
 5) Амурская область
 6) Тюменская область

--	--	--

15. Установите соответствие между субъектом федерации и цифрой, которой он обозначен на карте



ГОРОД

ЦИФРА

- А) Забайкальский край
 Б) Омская область
 В) Челябинская область

- 1) 1
 2) 2
 3) 3
 4) 4

А	Б	В

16. Потенциал российских регионов для развития туризма огромен. Каждый из них имеет рекреационные ресурсы, способные привлечь тысячи туристов из России и зарубежных стран. Определите субъект Российской Федерации по описанию его рекреационного потенциала:

В 2015 году «Белокуруху», «Бирюзовую Катунь» и другие курорты этого края посетили 1 миллион 200 тысяч человек, из которых 200 тысяч — иностранцы. Медицинский туризм является ключевым направлением туристической индустрии края. Лечебные ванны из пантов марала (рога

марала — подвид благородного оленя), солёные озёра — аналог Мёртвого моря, целебные травы, местная биофармацевтика и многое другое творят чудеса. Люди уезжают от нас обновлёнными, зарядившись здоровьем на целый год. И обязательно возвращаются.

Ответ: _____

17. Каковы преимущества и недостатки водного транспорта России?

Ответ: _____

Промежуточная аттестация по географии 9 класс

Форма: контрольная работа

Цель: установление фактического уровня освоения обучающимися 9-х классов содержания образовательной программы по географии, в соответствии с требованиями ФГОС.

Структура и содержание работы.

Контрольная работа представлена двумя равнозначными вариантами, каждый из которых включает 17 заданий. Задания охватывают темы курса географии 9 класса.

Продолжительность работы: 40 минут

Критерии оценки:

Полные правильные ответы на задания оцениваются в баллах следующим образом:

Задание №1 – 1 балл	Задание №10 - 1 балл
Задание №2 – 1 балл	Задание № 11- 1 балл
Задание №3 - 1 балл	Задание №12 – 1 балл
Задание №4 – 1 балл	Задание №13 - 1 балл
Задание №5 – 1 балл	Задание №14– 2 балла
Задание №6 - 1 балл	Задание №15 – 2 балла
Задание №7 - 1 балл	Задание №16 – 1 балл
Задание №8– 1 балл	Задание №17 – 2 балла
Задание №9– 1 балл	

Максимальный балл за работу – 20 б.

Тестовый балл	Школьная отметка
18 - 20 баллов	«5»
16 - 17 баллов	«4»
10 -15 баллов	«3»
0 – 9 баллов	«2»

