

**Контрольная работа по истории
5 класс**

Задание 1.

Каждая из иллюстраций, приведённых ниже, относится к одной из указанных в перечне тем. Установите соответствие между темами и иллюстрациями: к каждой теме подберите по одной иллюстрации.



1)



2)



3)



4)

- А) Вавилонское царство
- В) Древняя Индия
- Б) Древняя Палестина
- Г) Древняя Греция

Ответ:

Запишите в ответ цифры, расположив их в порядке, соответствующем буквам:

А	Б	В	Г

Задание 2.

Прочтите отрывок из легенды и определите, к какой из данных тем он относится. В ответе напишите букву, которой обозначена эта страна.

Из той части первоначальной материи, которая носилась ещё между небом и землёю, Мент, творящий дух, и Птах, первобытный огонь, мало-помалу образовали два больших мировых тела — солнце, бога Ра, и луну, бога Эг.

- А) Вавилонское царство
- В) Древняя Индия
- Б) Древняя Палестина
- Г) Древняя Греция

Ответ _____

Задание 3. Выберите одну тему из перечня, а затем выполните задания 3—6, только по выбранной Вами теме.

Прочитайте список слов и напишите слово, относящееся к выбранной Вами теме(Объясните смысл этого слова.

Гвардия бессмертных, шадуф, Иерусалимский храм, даосизм, гладиаторы, Геракл.

- А) Вавилонское царство
- В) Древняя Индия

Б) Древняя Палестина

Г) Древняя Греция

Ответ _____

Задание 4.

Выберите одну тему из перечня, а затем выполните задания 3—6, только по выбранной Вами теме.

Прочитайте список событий (явлений, процессов) и напишите событие (явление, процесс), которое относится к выбранной Вами теме.

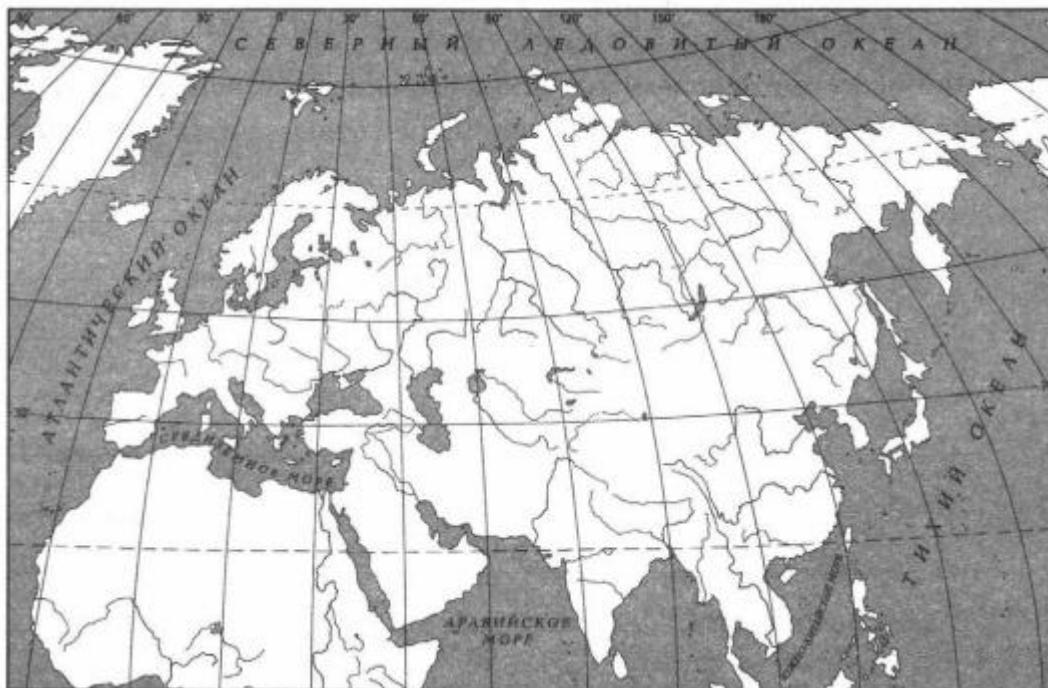
Захват Вавилона царём Киром, борьба древних евреев с филистимлянами, битва при Херонее, земельные реформы братьев Гракхов, изобретение бумаги, строительство пирамид-гробниц фараонов.

Используя знания по истории, расскажите об этом событии (явлении, процессе). Ваш рассказ должен содержать не менее двух исторических фактов.

Задание 5 .

Выберите одну тему из перечня, а затем выполните задания 3—6, только по выбранной Вами теме.

Заштрихуйте на контурной карте один четырёхугольник, образованный градусной сеткой (параллелями и меридианами), в котором полностью или частично располагалась страна, указанная в выбранной Вами теме.



Задание 6

Выберите одну тему из перечня, а затем выполните задания 3—6, только по выбранной Вами теме.

Используя знания исторических фактов, объясните, как природно-климатические условия повлияли на занятия жителей этой страны?

Контрольная работа по истории

6 класс

Задание 1.

Каждая из иллюстраций, приведённых ниже, относится к одному из указанных в перечне событий (процессов). Установите соответствие между событиями (процессами) и иллюстрациями: к каждому событию (процессу) подберите по одной иллюстрации.



Запишите в таблицу выбранные цифры под соответствующими буквами.

А	Б	В	Г

Перечень событий (процессов)

А) Четвёртый Крестовый поход

Б) борьба за власть на Руси после смерти князя Владимира Святославича

В) защита русских земель от вторжений с северо-запада в XIII в.

Г) политическое развитие Северо-Восточной Руси во второй половине XII в.

Задание 2.

Прочтите отрывок из исторического источника и определите, к какому из данных событий (процессов) он относится. В ответе напишите букву, которой обозначено это событие (процесс).

«Цари же Леон и Александр заключили мир с Олегом, обязались уплачивать дань и присягали друг другу: сами целовали крест, а Олега с мужами его водили присягать по закону русскому, и клялись те своим оружием и Перуном, своим богом, и Волосом, богом скота, и утвердили мир. И сказал Олег: «Сшейте для руси паруса из паволок, а славянам копринные», — и было так. И повесил щит свой на воротах в знак победы, и пошёл от столицы Византии. И подняла русь паруса из паволок, а славяне копринные, и разодрал их ветер; и сказали славяне: «Возьмём свои толстины, не даны славянам паруса из паволок». И вернулся Олег в столицу Руси, неся золото, и паволоки, и плоды, и вино, и всякое узорочье. И прозвали Олега Вещим, так как были люди язычниками и непросвещённым».

Перечень событий (процессов)

А) внешняя политика первых русских князей в 882–972 гг.

Б) объединение Франции в XII–XV вв.

В) взаимоотношения русских земель и княжеств с Золотой

Г) борьба Руси с половцами в

Задание 3.

С каким из данных событий (процессов) связано слово «династия Рюриковичей»? Запишите букву, которой обозначено данное событие (процесс). Объясните смысл слова «династия Рюриковичей».

Перечень событий (процессов)

- А) образование древнерусского государства Б) правление Андрея Боголюбского
В) Великая хартия вольностей Г) освобождение от ордынского владычества

Задание 4.

Выберите одно событие (процесс) из перечня, а затем выполните задания 4–7, рассматривая в каждом из заданий выбранное событие (процесс). В заданиях 4–7 буквы должны быть одинаковыми.

Укажите две исторические личности, непосредственно связанные с выбранным Вами событием (процессом).

Укажите одно любое действие каждой из этих личностей, в значительной степени повлиявшее на ход и (или) результат этого события (процесса).

Ответ запишите в таблицу.

Не следует указывать исторические личности, упомянутые в отрывке из исторического источника в задании 2.

Личности	Действия
1.	
2.	

Перечень событий (процессов)

- А) образование Испанского королевства Б) крещение Руси
В) борьба русских княжеств с кочевниками в XII в. Г) формирование законодательства Древнерусского государства в XI в.

Задание 5.

Заштрихуйте на контурной карте один четырёхугольник, образованный градусной сеткой, в котором полностью или частично происходило выбранное Вами событие (процесс).



Задание 6.

Запишите название любого объекта (города, населённого пункта, реки или др.), который непосредственно связан с выбранным Вами событием (процессом).

Объясните, как указанный Вами объект (город, населённый пункт, река или др.) связан с этим событием (процессом).

Задание 7.

Используя знание исторических фактов, объясните, почему выбранное Вами событие (процесс) имело большое значение в истории нашей страны и/или истории зарубежных стран.

Рассмотрите изображения памятников культуры и выполните задания 8, 9.

1)




2)



3)



4)



Задание 8.

На каких двух изображениях представлены памятники культуры России, а на каких — памятники культуры зарубежных стран? Запишите в таблицу порядковые номера соответствующих изображений.

Ответ:

Памятники культуры России	Памятники культуры зарубежных стран

Задание 9.

Выберите один из этих четырёх памятников культуры и укажите название города, в котором этот памятник культуры находится в настоящее время.

**Контрольная работа по истории
7 класс**

Задание 1

Установите соответствие между событиями (процессами) и их участниками: к каждой позиции первого столбца подберите соответствующую позицию из второго столбца.

СОБЫТИЯ (ПРОЦЕССЫ)	УЧАСТНИКИ
А) «Славная революция» в Англии Б) Смута в России В) отмена местничества	1) Федор Алексеевич 2) протопоп Аввакум 3) Д. Т. Трубецкой 4) Генрих VII 5) Яков II Стюарт

Запишите в ответ цифры, расположив их в порядке, соответствующем буквам:

А	Б	В

Задание 2

Запишите термин, о котором идёт речь.

«Неофициальное правительство России в конце 1540–1550-х гг., в которое входили приближённые царя Ивана IV Грозного».

Задание 3

Прочтите отрывок из исторического источника и выполните задание.

«...гетман Богдан Хмельницкой и всё Войско Запорожское присылали к великому государю царю и великому князю <...> бити челом многожды, чтоб он, великий государь, православные христианские веры искоренить и святых Божиих церквей разорить гонителям их и клятвопреступникам не дал и над ними умилосердился, велел их принять под свою государскую высокую руку... И по тому по всему приговорили: гетмана Богдана Хмельницкого и всё Войско Запорожское с городами и с землями принять...»

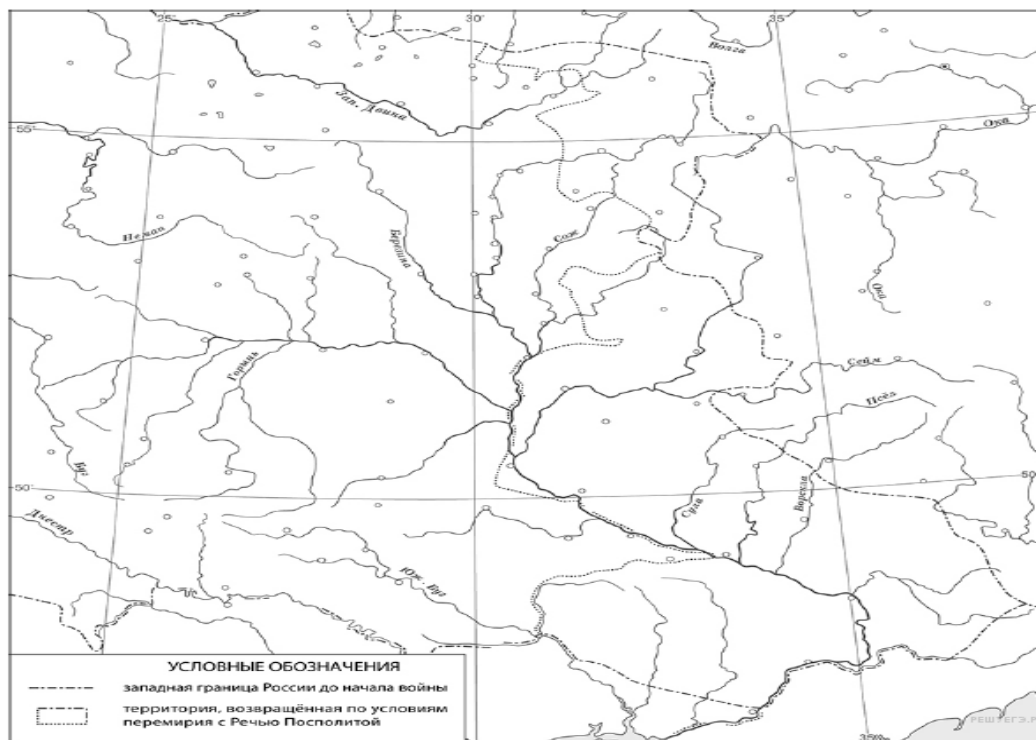
Укажите имя и отчество или имя и прозвание великого государя, который упоминается в отрывке.

Укажите название собрания представителей запорожского казачества, которое прошло вскоре после приговора Земского Собора в Москве и на котором было принято решение о переходе в состав Московского государства.

Задание 4

Укажите российского монарха, при котором Речь Посполитая фактически вернула России территорию, обозначенную на карте.

Рассмотрите карту и выполните задания 4, 5.



Задание 5

Подпишите на карте реку Днепр и город Киев.

Задание 6

Какие из приведённых памятников культуры были созданы в XVI в.? Выберите два памятника культуры и запишите в таблицу цифры, под которыми они указаны.

Ознакомьтесь с приведённым перечнем и изображениями памятников культуры и выполните задания 6, 7.

- 1) «Домострой»
- 2) «Повесть о Шемякином суде»

3)



4)



Задание 7

В создании какого из приведённых памятников культуры принимал непосредственное участие протопоп Сильвестр? Укажите порядковый номер этого памятника культуры.

Задание 8 Укажите время, с точностью до десятилетия, когда в России впервые были введены заповедные лета. Укажите одно любое событие из истории зарубежных стран, относящееся к этому же веку и десятилетию. Не следует указывать событие из истории международных отношений, одной из сторон которого была Россия.

Время с точностью до десятилетия:

Событие из истории зарубежных стран:

Задание 9

Какой из приведённых исторических фактов можно использовать для аргументации следующей точки зрения: «При Федоре Иоанновиче происходит дальнейшее закрепощение крестьян»? Укажите порядковый номер этого факта в списке.

1. Принятие Судебника
2. введение урочных лет
3. поход Ермака Тимофеевича

Объясните, как с помощью выбранного Вами факта можно аргументировать данную точку зрения.

Задание 10

Укажите год (годы), к которому(-ым) относится выбранное Вами событие (процесс). Приведите два любых факта, характеризующих ход этого события (процесса).

Год (годы):

Факты:

Прочтите перечень из четырёх событий (процессов). Выберите ОДНО событие (процесс) из перечня, а затем выполните задания 10, 11, рассматривая в каждом из заданий выбранное событие (процесс).

Перед выполнением каждого из заданий 10, 11 укажите букву, которой выбранное событие (процесс) обозначено в перечне. Указанные в заданиях 10, 11 буквы должны быть одинаковыми.

Перечень событий (процессов)

А) принятие Судебника Ивана Грозного
В) поход Ермака Тимофеевича

Б) заключение Столбовского мира
Г) отмена местничества

Контрольная работа по истории
8 класс

Задание 1. Расположите в хронологической последовательности исторические события. Запишите цифры, которыми обозначены исторические события, в правильной последовательности.

- 1) издание манифеста о вольности дворянства
- 2) восстание под предводительством К.А.Булавина
- 3) «Бостонское чаепитие»

Задание 2.

Назовите изображённого на картине монарха.



Ответ: _____

Задание 3.

Назовите способ комплектования вооружённых сил России, введённый изображённым на картине монархом.

Ответ: _____

Задание 4.

Прочтите отрывок из исторического источника и выполните задание.

«Когда императрица победоносно возвратилась в город и удалилась затем в свою спальню, капитан Орлов упал к её ногам и сказал: «Я вижу вас императрицей; моё отечество освобождено из цепей, и оно будет счастливо под вашим управлением...»

Для поездки в Ропшу с Петром III императрица назначила капитана Алексея Орлова, князя Барятинского и трёх других офицеров. Они выбрали 100 человек из различных гвардейских полков. Данные им приказания гласили сделать жизнь этому государю столь приятной, насколько они могли, и доставлять ему для его забавы всё, чего он ни пожелает. Предполагалось из этого места перевести его в Шлиссельбург, а через некоторое время, в зависимости от обстоятельств, отправить его с его фаворитами в Гольштейн, до такой степени его личность представлялась мало опасной».

Укажите с точностью до десятилетия период, когда произошли описываемые события.

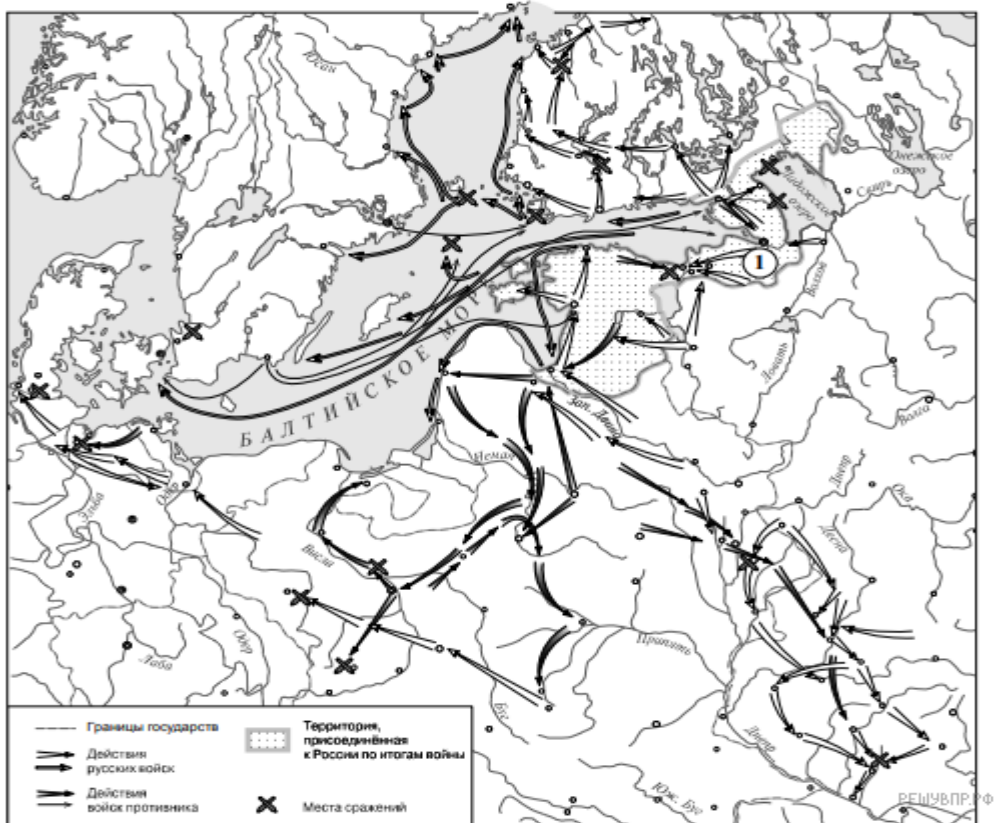
Какова дальнейшая судьба упомянутого в отрывке государя?

Ответ: _____

Задание 5.

Укажите название города, обозначенного на карте цифрой «1».

Рассмотрите карту и выполните задания 5, 6.



Задание 6.

Подпишите на карте сражение при Лесной и город Ригу.

Задание 7.

Какие из приведённых памятников культуры были созданы в XVIII в.? Выберите два памятника культуры и запишите в таблицу цифры, под которыми они указаны.

Ознакомьтесь с приведённым перечнем и изображениями памятников культуры и выполните задания 7, 8.

- 1) «Повесть временных лет»
- 2) «Хождение за три моря»
- 3) «Повесть о Шемякином суде»

4)



5)



Задание 8.

Какой из приведённых памятников культуры создан по указу Петра I? Укажите порядковый номер этого памятника культуры.

Ответ: _____

Задание 9.

Какой из приведённых исторических фактов можно использовать для аргументации следующей точки зрения: «В период правления Петра I свобода крестьян была ещё более ограничена по сравнению с предшествующим периодом»? Укажите порядковый номер этого факта в списке.

- 1) издание жалованной грамоты дворянству
- 2) введение паспортной системы
- 3) издание указа, по которому крестьяне потеряли право жаловаться монарху на своих помещиков

Объясните, как с помощью выбранного Вами факта можно аргументировать данную точку зрения.

Ответ: _____

Контрольная работа по истории 9 класс

Часть А.

- A1. Выделите годы правления императора Александра I.
а) 1801-1825 б) 1825-1855 в) 1881-1894
- A2. Как называется государственный орган при Александре I, в который входили следующие деятели: А.Чарторыйский, Н.Н. Новосельцев, В.П.Кочубей?
а) Сенат б) Негласный комитет в) Государственная дума
- A3. В каком году был введен «Указ о вольных хлебопашцах»?
а) 1703г б) 1803 г в) 1806г
- A4. Название тайного общества декабристов, возникшего в 1816 году?
а) Союз Благоденствия б) Южное общество в) Союз Спасения
- A5. Какое наказание понесли организаторы декабристского вооруженного восстания на Сенатской площади?
а) казнь через повешенье б) казнь четвертованием в) обезглавливание
- A6. Автор «Теория официальной народности»?
а) М.М. Сперанский б) С.С.Уваров в) П.Пестель
- A7. Главнокомандующий русской армии в период Отечественной войны 1812г.?
а) Багратион П.И. б) Кутузов М.И. в) Барклай-де-Толли М.Б.
- A8. Отметьте генеральное сражение в период Отечественной войны 1812г?
а) Смоленское б) Тарутинский марш-маневр в) Бородинское
- A9. Государственный деятель, возглавивший Третье отделение жандармов Его Императорского Величия Тайной Канцелярии при Николае I?
а) Бенкендорф А.Х б) С.С.Уваров в) Киселев П.Д.
- A10. Укажите дату начала «хождения в народ» революционных народников:
а) 1861 г.; б) 1874 г.; в) 1879 г.
- A11. Кто автор программного документа «Русская Правда» декабристов?
а) П.Пестель б) Н.Муравьев в) С.Трубецкой
- A12. Подписанием какого мирного договора завершилась Крымская война?
а) Сан-Стефанского б) Парижского в) Ништадского
- A13. Между какими города была проложена первая железная дорога?
а) С-Петербург – Москва б) С-Петербург - Царское Село в) Москва – Смоленск
- A14. Отметьте ученого-химика, создателя устойчивого химического красителя для текстильной промышленности?

А) Н.Н. Зинин б) А.Д. Захаров в) Д.И. Менделеев
А15. К основным факторам, способствовавшим формированию взглядов декабристов не относится:

- а) Отечественная война 1812 г. и патриотический подъём в стране;
- б) вольнолюбивые идеи А.Н. Радищева, А.С. Пушкина;
- в) стремление прославить

А16. Выделите годы правления императора Николая I
а) 1801-1825 б) 1825-1855 в) 1855-1881

Часть В

В1 Расположите события в хронологическом порядке:

- а) принятие новых судебных уставов
- б) освоение нефтяных промыслов в Баку
- в) продажа Аляски властям США
- г) открытие первых телефонных линий
- д) взятие российскими войсками крепости Плевны
- е) убийство Александра II террористами

В2 Среди перечисленных лиц укажите современников императора Александра II

- а) Н.Н. Новосильцев; б) М.Д. Скобелев ; в) Д.И. Менделеев ; г) М.И. Кутузов ; д) М. А. Бакунин ; е) К.П. Победоносцев ; ж) Людовик XV

В3 Установите соответствие между датами, событиями и персоналиями

дата	событие	персоналии
1865	А) Основание в Москве общества «Народная расправа»	1. П.П. Шувалов
1869	Б) Взятие перевала Шипка в ходе русско-турецкой войны	2. И. В. Гурко
1881	В) Взятие Ташкента и ряда крупных городов в Средней Азии российскими войсками	3. С.Г. Нечаев
1877	Г) Создание монархической организации «Священная дружина»	4. М. Г. Черняев

В4 Дайте определение следующим терминам

Апелляция, аренда, радикальный, черта оседлости

Часть С

С1. Соотнеси имена исторических деятелей и страны. Ответ запиши в строчку без пробела, где буква будет соответствовать порядковому номеру страны. Пример: 1е 2д и т.д.

- 1) Великобритания
- а) Дж. Гарибальди
- 2) Италия
- б) королева Виктория
- 3) Франция
- в) А. Линкольн
- 4) США
- г) А. Сен-Симон
- 5) Россия
- д) О. Бисмарк
- б) Османская империя
- е) Николай Первый
- 7) Германия
- ж) султан Абдул-Меджид

С2. Расскажите о любом изобретателе, ученом, писателе, художнике, музыканте и т.п. XIX в. (5 предложений)
